


Oddział Międzyuczelniany PTTK w Warszawie

Egzamin na Organizatora Turystyki OM PTTK – 22.05.2012



Egzamin składa się z „wejściówki” (4 pytania) oraz 36 pytań pogrupowanych w 10 działów. Punktacja dla poszczególnych pytań została przedstawiona obok.

Zaliczenie egzaminu polega na uzyskaniu:

- z „wejściówki” co najmniej 81 punktów – w przypadku uzyskania mniejszej liczby punktów praca nie będzie dalej sprawdzana,
- z działów po co najmniej po 61 punktów.

Warunkiem dopuszczenia do ustnego egzaminu poprawkowego jest zdobycie po 61 punktów z przynajmniej 7 działów.

Życzymy powodzenia! :)

Komisja Egzaminacyjna

„Wejściówka”		
1		32
2		24
3		20
4		24
razem		100

Budownictwo drewniane		
5		25
6		15
7		36
8		24
razem		100

Etnografia		
9		36
10		25
11		18
12		21
razem		100

Architektura		
13		40
14		40
15		20
razem		100

PTTK jako organizacja		
16		40
17		12

18		48
razem		100

Pierwsza pomoc		
19		24
20		12
21		34
22		30
razem		100

Geografia turystyczna Polski		
23		40
24		20
25		40
razem		100

Historia turystyki		
26		12
27		40
28		28
29		20
razem		100

Terenoznawstwo		
30		28
31		40
32		20
33		12
razem		100

Przyroda i jej ochrona		
34		39
35		20
36		26
37		15
razem		100

Zagadnienia prawne w turystyce		
38		26
39		38
40		36
razem		100

„Wejściówka”**Pytanie 1 [32 pkt.] test wielokrotnego wyboru**

- 1) Organizatorem Turystyki OM PTTK w Warszawie może zostać kandydat, który:
- jest członkiem OM PTTK w Warszawie,
 - ma ukończone 18 lat,
 - jest członkiem PTTK min. 2 lata,
 - zdał egzamin OT w OM PTTK.
- 2) Przedłużenie ważności legitymacji Organizatora Turystyki OM PTTK:
- jest dokonywane przez Zarząd OM,
 - odbywa się wyłącznie od stycznia do marca,
 - następuje wraz z przedłużeniem umowy o wolontariacie z OM PTTK,
 - może zostać dokonane niezależnie od ważności legitymacji członkowskiej PTTK.
- 3) Organizator Turystyki OM PTTK w Warszawie ma prawo do:
- organizowania wycieczek i imprez turystycznych w ramach działalności statutowej OM PTTK w Warszawie,
 - zwolnienia z konieczności corocznego opłacania składki członkowskiej PTTK,
 - noszenia odznaki i posługiwania się legitymacją Organizatora Turystyki PTTK,
 - odpłatnego oprowadzania wycieczek po Warszawie bez konieczności zdobycia innych uprawnień.
- 4) Organizator Turystyki OM PTTK ma obowiązek wspierania realizacji celów statutowych OM PTTK w Warszawie przez swoją działalność organizacyjno-popularyzatorską, a w szczególności poprzez:
- zdobywanie oraz propagowanie zdobywania odznak turystyki kwalifikowanej i krajoznawczych,
 - opłacanie składki członkowskiej w Warszawskiej Organizacji Turystycznej,
 - składanie rocznego sprawozdania do Zarządu OM ze swojej działalności,
 - podnoszenie swoich kwalifikacji turystycznych.

Pytanie 2 [24 pkt.]

Podaj stolice następujących województw:

lubuskie	
podlaskie	
pomorskie	
śląskie	

warmińsko-mazurskie	
kujawsko-pomorskie	
świętokrzyskie	
podkarpackie	

Pytanie 3 [20 pkt.]

Określ kolejność, w jakiej powstawały następujące organizacje (przypisując numery od 1-4, gdzie 1 oznacza organizację, która powstała najwcześniej).

GTT: ____	PTTK: ____	PTK: ____	TT: ____
------------------	-------------------	------------------	-----------------

Pytanie 4 [24 pkt.]

Podaj pełne nazwy trzech odznak, które można weryfikować w Terenowym Referacie Weryfikacyjnym działającym przy Oddziale Międzyuczelnianym PTTK w Warszawie.

Budownictwo drewniane

Pytanie 5 [25 pkt.]

Opisz w co najwyżej 50 słowach obiekt przedstawiony na rysunku uwzględniając jego konstrukcję.

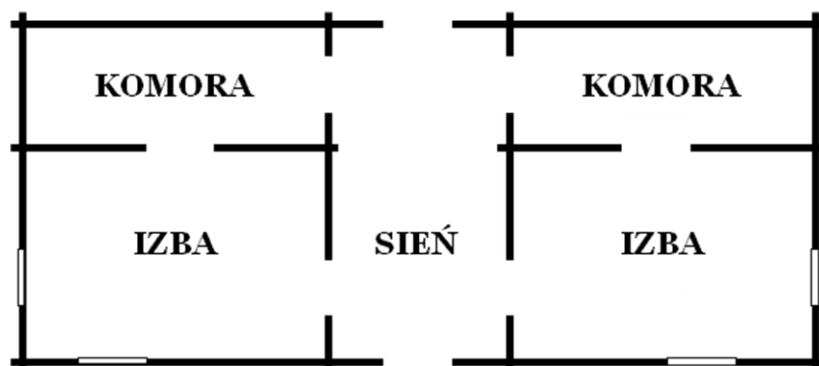


fot. A.Olejniczak

Pytanie 6 [15 pkt.]

a) Wymień 5 typów drewnianych budynków o charakterze świeckim. [10 pkt]

b) Jaki układ pomieszczeń ma chałupa uwidoczniiona na poniższym planie? [5 pkt]



- a. jednotraktowym
- b. półotraktowym
- c. dwutraktowym

Pytanie 7 [36 pkt.] test jednokrotnego wyboru

1. Najniższa belka w drewnianej ścianie, oparta na fundamencie to:
 - a. sumik
 - b. podwalina
 - c. kalenica
 - d. sosręb
2. Które z poniższych stanowi cechę różnicującą kościoły typu małopolskiego i śląskiego:
 - a. kościoły typu małopolskiego są drewniane, kościoły typu śląskiego – murowane
 - b. kościoły typu śląskiego, w przeciwieństwie do tych typu małopolskiego, są kryte gontem
 - c. kościoły typu małopolskiego, w przeciwieństwie do tych typu śląskiego, posiadają ikonostas
 - d. kościoły typu śląskiego, w przeciwieństwie do tych typu małopolskiego, mają niezależny rozstaw krokwi nad nawą i prezbiterium
3. Budynek lub pomieszczenie, w którym dokonywano obróbki sukna to:
 - a. folusz
 - b. spichlerz
 - c. sypaniec
 - d. młyn
4. Skansenu / muzeum budownictwa drewnianego nie zwiedzisz w:
 - a. Sanoku
 - b. Wdzydzach Kiszewskich
 - c. Starym Sączu
 - d. Zubrzycy Górnej
5. Elementem konstrukcyjnym w konstrukcji krokwiowej dachu nie jest:
 - a. łątka
 - b. jętka
 - c. tram
 - d. krokiew
6. Jakie konstrukcje zastosowano w budynku na poniższym rysunku:




- a. zrębowa – dla sąsiadujących ścian, sumikowo-łątkowa – wokół drzwi
 - b. sumikowo-łątkowa – dla sąsiadujących ścian, zrębowa – wokół drzwi
 - c. tylko zrębowa
 - d. tylko sumikowo-łątkowa
7. Wieże kościołów drewnianych najczęściej budowano w konstrukcji:
 - a. ślegowej
 - b. zrębowej
 - c. słupowo-ramowej
 - d. sumikowo-łątkowej

8. Na liście światowego dziedzictwa UNESCO znajdziemy:
- skansen w Lublinie
 - meczety w Kruszynianach i Bohonikach
 - ewangelickie Kościoły Pokoju w Jaworze i Świdnicy
 - drewnianą karczmę w Suchej Beskidzkiej
9. Najstarszym budynkiem drewnianym w Polsce jest:
- cerkiew w Kwiatoniu
 - cerkiew w Dubnem
 - kościół w Dębnie Podhalańskim
 - kościół Wang w Karpaczu

Pytanie 8 [24 pkt.]

- a) Cerkiew zachodniołemkowska ma charakterystyczną trójdzielną budowę – z jakich 3 części się składa [9 pkt]?

	A
	B
	C

- b) Z poniższej listy wybierz 3 nazwy związane z budową / konstrukcją cerkwi i krótko opisz [15 pkt]:
belka tęczowa, ikonostas, izbica, pseudolatarenka, szalunek

Etnografia

Pytanie 9 [36 pkt]





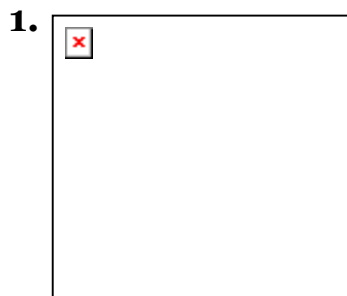
1. Wymień mniejszości narodowe i etniczne w Polsce (w myśl ustawy o mniejszościach narodowych i etnicznych oraz języku regionalnym) [26 pkt]:



Mniejszość narodowa	
Mniejszość etniczna	

2. Wskaż jedną mniejszość narodową lub etniczną, nieujęta w ustawie, o której mowa w pkt. 1 i opisz krótko, dlaczego ustawa nie obejmuje tej mniejszości: [10 pkt]

Pytanie 10 [25 pkt.]

Poniżej znajdują się zdjęcia lub ilustracje obiektów charakterystycznych dla wybranych mniejszości narodowych, etnicznych, wyznaniowych lub grup etnograficznych. **Wybierz 1 obraz dla każdej mniejszości i nazwij go w tabelce poniżej.** (Uwaga! Obrazów jest więcej.)





Mniejszość	Wybrany obraz [10 pkt.]	Tytuł [15 pkt.]
Prawosławie		
Judaizm		
Islam		
Kurpie		
Łemkowie		

Pytanie 11 [18 pkt]

Dopasuj do każdego święta jeden zwyczaj lub przedmiot z poniższej listy:

Śmigus Dyngus, kolęda, wianki, topienie Marzanny, gaik zielony, pisanki, wróżenie z wosku, święconka, kwiat paproci, wróżenie z butów ustawionych od ściany do progu pokoju, szpechotka, ogień sobótkowe, ostatnia garść, turoń, wieniec (plon), opłatek, Judaszki, pasterka.

Dożynki	
Wielki Tydzień i Wielkanoc	
Noc Świętojańska	
Boże Narodzenie	
Andrzejki	
Początek Wiosny	

Pytanie 12 [21 pkt.]

Do czego służą:

cep	
socha	
żarna	

Architektura**Pytanie 13 [40 pkt.]**



Twój kolega prowadzi wycieczkę, w której uczestniczysz. Musisz go nagle zastąpić w roli opowiadającego **nie wiedząc absolutnie nic o historii budynku** (na zdjęciu powyżej). W kilku słowach wymień, co powiesz grupie na temat każdej sekcji.

- Przeznaczenie budowli - 10 pkt.
- Przybliżony czas powstania - 7 pkt.
- 3 widoczne cechy samego budynku - 9 pkt.
- Co możesz powiedzieć o otoczeniu (np. dlaczego jest wolna przestrzeń na 1. planie?) - 5 pkt.
- Detale architektoniczne widoczne na zdjęciu (podaj 3 nieopisane w c) - 9 pkt.

Pytanie 14 [40 pkt.]

Określ style zabytkowych budowli z terenu Polski widocznych na zdjęciach i orientacyjne ramy czasowe, w jakich te budowle mogły powstać.

Wymień cechy architektury charakterystyczne dla tego stylu. Podaj po jednym przykładzie szczególnie cennych budowli w danym stylu znajdujących się w Polsce (nie podawaj tych, które widzisz na poniższych zdjęciach).

			
Styl [2 pkt]		Styl [2 pkt]	
Przybliżony czas powstania [2 pkt]		Przybliżony czas powstania [2 pkt]	
Cechy charakterystyczne stylu [4 pkt]		Cechy charakterystyczne stylu [4 pkt]	
Przykład [2 pkt]		Przykład [2 pkt]	



Styl <i>[2 pkt]</i>		Styl <i>[2 pkt]</i>	
Przybliżony czas powstania <i>[2 pkt]</i>		Przybliżony czas powstania <i>[2 pkt]</i>	
Cechy charakterystyczne stylu <i>[4 pkt]</i>		Cechy charakterystyczne stylu <i>[4 pkt]</i>	
Przykład <i>[2 pkt]</i>		Przykład <i>[2 pkt]</i>	

Pytanie 15 [20 pkt.]

Uszereguj rodzaje budowli i systemów obronnych od najwcześniejszych do najnowszych (wpisz odpowiednie numery od 1 do 5 w pustej rubryce):

	Twierdza fortowa
	Gród
	Rejon umocniony
	Twierdza bastionowa
	Zamek

PTTK jako organizacja**Pytanie 16 [40 pkt.] (Zwolnienie dla osób posiadających odznaki TAK / NIE)**

1. Wyjaśnij następujące skróty odznak: *[po 4 punkty za poprawną odpowiedź]*

GOT	
OInO	
JOTN	
KOT	
OTP	
NON	
ROK	
WOK	

2. OM PTTK w Warszawie nie jest inicjatorem powstania: *[8 punktów]*

- Odznaki Szlakiem Powstania Warszawskiego
- Odznaki Szlakiem Zabytków Światowego Dziedzictwa UNESCO w Polsce
- Odznaki Turystyki Jaskiniowej
- Odznaki „Turysta Przyrodnik”

Pytanie 17 [12 pkt.]

Wyjaśnij następujące skróty: *[po 4 punkty za poprawną odpowiedź]*

AKT	
COTG	
PTG	

Pytanie 18 [48 pkt.] test jednokrotnego wyboru

Zaznacz prawidłową odpowiedź: [po 4 punkty za poprawną odpowiedź]

1. Najwyższą władzą w PTTK jest:
a) Główna Komisja Rewizyjna b) Główny Koleżeński Sąd c) Walny Zjazd PTTK d) Zarząd Główny
2. Kołem OM PTTK nie jest:
a) SKPT koło nr 7 b) AKT „Maluch” koło nr 13
c) Koło nr 18 Miłośników Nieznajowej d) Koło nr 69
3. Czyje imię nosi Centralna Biblioteka PTTK w Warszawie:
a) Jana Pawła II b) Aleksandra Janowskiego c) Kazimierza Kulwiecia d) Henryka Sienkiewicza
4. Komisje programowe OM PTTK powołuje:
a) Komisja Rewizyjna Oddziału b) Komisje ZG PTTK c) Walny Zjazd PTTK d) Zarząd Oddziału
5. Prezes koła PTTK nie może pełnić funkcji sekretarza:
a) Komisji Rewizyjnej Oddziału b) Komisji Rewizyjnej Koła c) Walnego Zabrania koła d) Zarządu Oddziału
6. Uprawnieniem kadry programowej PTTK nie jest:
a) Organizator Turystyki b) Przewodnik Turystyki Pieszej c) Wychowawca Kolonijny d) Znakarz Szlaków Nizinnych
7. Ile kół działa w OM PTTK:
a) 4 b) 6 c) 8 d) 10
8. Ostatnie wybory do władz OM PTTK w Warszawie odbyły się w roku:
a) 2009 b) 2010 c) 2011 d) 2012
9. Ważność uprawnień Organizatora Turystyki należy przedłużać:
a) co rok b) co dwa lata c) co 3 lata d) co 4 lata
10. OM PTTK w Warszawie wydaje periodyk:
a) Barbakan b) Harnaś c) Magury d) Mazowsze
11. Wyróżnienie przyznawane przez OM PTTK w Warszawie dla swoich członków to:
a) Członkostwo honorowe b) Dyplom PTTK c) Srebrna Honorowa Odznaka PTTK d) Zasłużony dla OM PTTK w Warszawie
12. Jaki obiekt noclegowy prowadzi OM PTTK:
a) Chatka na Potrójnej b) Chatka w Polanach Surowicznych c) SBN „Madejowe Łoże” Podwilk d) SBN Rabe

Pierwsza pomoc**Pytanie 19 [24 pkt.]**

Z okazji pierwszego dnia wiosny postanowiłeś wybrać się na całodniową wycieczkę do Puszczy Kampinoskiej. Napisz 8 najważniejszych rzeczy, które zabierzesz na wycieczkę.

Pytanie 20 [12 pkt.]

Podaj numery następujących telefonów alarmowych:

Straż Pożarna		WOPR	
Pogotowie Ratunkowe		TOPR	

Pytanie 21 [34 pkt.]

a) Jesteś kierownikiem ośmioosobowej grupy na rajdzie w Beskidzie Niskim. Nagle jeden z uczestników potyka się i skręca nogę, tak, że dalsze kontynuowanie marszu jest dla niego bardzo bolesne. Podaj 3 możliwości wezwania pomocy. [24 pkt.]

b) Jakie informacje podasz dyspozytorowi dzwoniąc pod numer alarmowy? Wymień 5 z nich. [10 pkt.]

--	--	--	--	--

Pytanie 22 [30 pkt.]

Organizujesz weekendowy rajd rowerowy na Roztoczu dla czterech osób. Wymień 5 składników apteczki, które zabierzesz na wycieczkę i opisz sytuacje w jakich mógłbyś je zastosować.

Geografia Turystyczna Polski

Pytanie 23 [40 pkt.]

1. Uzupełnij tabelę elementami z poniższej listy. [20 pkt.]

Babia Góra, Beskid Śląski, Bieszczady, Chełmiec, Góry Izerskie, Góry Kaczawskie, Góry Wałbrzyskie, Pieniny, Skopiec, Skrzyczne, Tarnica, Trzy Korony, Wysoka, 869 m, 1050 m, 1126 m, 1257 m, 1346 m, 1725 m

pasmo górskie	najwyższy szczyt	wysokość
Beskid Żywiecki		
	Tarnica	
		724 m
Pieniny		
	Wysoka Kopa	

2. Scharakteryzuj wybrany z poniższej listy region turystyczny uwzględniając atrakcje turystyczne, zagospodarowanie turystyczne, zabytki, ciekawostki przyrodnicze i kulturalne. [20 pkt.]

Beskid Niski, Jura Krakowsko-Częstochowska, Ziemia Kłodzka, Podlasie, Pomorze Gdańskie

--

Pytanie 24 [20 pkt.]

Wymień 5 miejsc z Polski wpisanych na listę światowego dziedzictwa UNESCO i podaj województwo, w którym się znajdują.

1		
2		
3		
4		
5		

Pytanie 25 [40 pkt.]



Zaznacz na podanej mapie Polski położenie **dwudziestu** wybranych z poniższej listy miejsc:

1	Augustów	14	Olsztyn
2	Białowieża	15	Opołonek
3	Bogatynia	16	Opole
4	Chęciny	17	Puławy
5	Częstochowa	18	Przemyśl
6	Elbląg	19	Sandomierz
7	Gniezno	20	Słupsk
8	Gorzów Wielkopolski	21	Szczecin
9	Lublin	22	Śniardwy
10	Łódź	23	Toruń
11	Masyw Śnieżnika	24	Wejherowo
12	Modlin	25	Wrocław
13	Nowy Sącz	26	Zakopane

Historia turystyki**Pytanie 26 [12 pkt.]**

Podaj daty powstania. [po 4 punktów za poprawną odpowiedź]

PTTK		PTK		TOPR	
------	--	-----	--	------	--

Pytanie 27 [40 pkt.] test jednokrotnego wyboru

Zaznacz prawidłową odpowiedź. [po 4 punkty za poprawną odpowiedź]

1. PTK powstało:
 - a. w zaborze austriackim
 - b. w zaborze pruskim
 - c. w zaborze rosyjskim
 - d. w wolnym mieście Gdańsk
2. TT zmieniło nazwę na PTT bezpośrednio po:
 - a. I wojnie światowej
 - b. II wojnie światowej
 - c. II rozbiórze Polski
 - d. III rozbiórze Polski
3. Pierwszy studencki klub turystyczny - Akademicki Klub Turystyczny powstał:
 - a. w Krakowie
 - b. w Stanisławowie
 - c. we Lwowie
 - d. w Warszawie
4. Pierwsze schronisko TT zostało otwarte:
 - a. w Dolinie 5 Stawów
 - b. na Markowych Szczawinach
 - c. w Morskim Oku
 - d. pod Zaroślakiem
5. Który region turystyczny należał do Polski przed II wojną światową:
 - a. Beskidy Wschodnie
 - b. Mazury
 - c. Pomorze Zachodnie
 - d. Sudety
6. Pierwsze schronisko PTK zostało otwarte:
 - a. w Morskim Oku
 - b. na Szyndzielni
 - c. na Śnieżniku
 - d. w Świętej Katarzynie
7. Pierwsze muzeum na ziemiach polskich założone przez Izabelę Czartoryską powstało w:
 - a. Krakowie
 - b. Lublinie
 - c. Puławach
 - d. Warszawie
8. PTTK powstało z połączenia:
 - a. GTT i PTK
 - b. GTT i PTTK
 - c. PTK i PTT
 - d. PTT i TT
9. Wojna na pędzle rozgrywała się pomiędzy PTT a:
 - a. AKT
 - b. Beskidenverein
 - c. PTK
 - d. TOPR
10. Wydawnictwo wydawane przez PTK to:
 - a. Pamiętniki
 - b. Taternik
 - c. Wierchy
 - d. Ziemia

Pytanie 28 [28 pkt.] test jednokrotnego wyboru

Zaznacz prawidłową odpowiedź: [po 4 punkty za poprawną odpowiedź]

1. Bezpośrednią przyczyną założenia TOPR była śmierć:
 - a. Klemensa Bachledy
 - b. Mieczysława Karłowicz
 - c. Stanisława Szulakiewicza
 - d. Mariusza Zaruskiego
2. Pierwszą udokumentowaną wycieczkę w Tatry odbył(a):
 - a. Tytus Chałubiński
 - b. Jan Krzeptowski (Sabała)
 - c. Beata Łaska
 - d. Stanisław Staszic
3. Inicjatorem powstania PTK był:
 - a. Aleksander Janowski
 - b. Edward Moskała
 - c. Wincenty Pol
 - d. Mariusz Zaruski
4. Inicjatorem utworzenia COTG był:
 - a. Tytus Chałubiński
 - b. Jan Gwałbert Pawlikowski
 - c. Edward Moskała
 - d. Ludwik Zejszner

5. Pierwszy szlak turystyczny w Tatrach został wyznakowany przez:

- a. Klemensa Bachledę b. Walerego Eliasza-Radzikowskiego c. Walerego Gadowskiego d. Leopolda Świerza

6. Zakopiański Oddział Narciarzy został utworzony przez:

- a. Walerego Goetla b. Władysława Krygowskiego c. Władysława Midowicza d. Mariusza Zaruskiego

7. Inicjatorem utworzenia Głównego Szlaku Beskidzkiego był:

- a. Władysław Krygowski b. Edward Moskała c. Mieczysław Orłowicz d. Kazimierz Sosnowski

Pytanie 29 [20 pkt.] test jednokrotnego wyboru

Zaznacz prawidłową odpowiedź: [po 5 punkty za poprawną odpowiedź]

1. COTG powstał w roku:

- a. 1893 b. 1909 c. 1952 d. 1968

2. Oddział Międzyuczelniany PTTK w Warszawie powstał w roku:

- a. 1923 b. 1954 c. 1960 d. 1990

3. GOT utworzono:

- a. 1935 b. 1952 c. 1960 d. 1974

4. GOPR powstał w roku:

- a. 1906 b. 1909 c. 1952 d. 1977

Terenoznawstwo

Pytanie 30 [28 pkt.]

1. Korzystając z załączonej mapy odpowiedz na poniższe pytania:

Podaj 4 możliwości noclegu na obszarze objętym mapą. [16 pkt.]	
Jaką wartość ma azymut wyznaczony ze szczytu Ćwilina na kościół w Jurkowie? [8 pkt.]	
Z którego miejsca na obszarze objętym mapą roztacza się najładniejszy widok? [4 pkt.]	

Pytanie 31 [40 pkt.]

1. Planujesz wycieczkę dzienną z harcerzami na trasie Gruszowiec (PTSM)-Ćwilin-Jurków. Podaj długość trasy w kilometrach oraz sumę przewyższeń w metrach [10 pkt.]

2. Narysuj schematyczny profil wysokościowy wycieczki zaplanowanej w zad. 1.: [10 pkt.]

3. Innego dnia z tą samą grupą jedziecie do Dobrej w celu zwiedzenia miejscowości. Podaj atrakcje krajoznawcze miasteczka na podstawie mapy. [20 pkt]

--

Pytanie 32 [20 pkt.] - test jednokrotnego wyboru

1. Azymut o stopni oznacza:

- a) Brak kierunku
- b) Południe
- c) Północ

2. Jar o szerokości 0,7 cm na mapie w skali 1:35 000 w rzeczywistości będzie miał szerokość:

- a) 24,5 m
- b) 245 m
- c) 245 cm

3. NNW na róży wiatrów oznacza azymut:

- a) 22,5 st
- b) 315 st
- c) 337,5 st
- d) 270 st

4. Podaj definicję deklinacji magnetycznej.

- a) zakłócenie ziemskiego pola magnetycznego przez obiekty znajdujące się w pobliżu kompasu magnetycznego np.: stalowa wieża widokowa itp.;
- b) kąt poziomy w danym miejscu na powierzchni Ziemi pomiędzy południkiem magnetycznym i geograficznym;
- c) kąt poziomy między kierunkiem marszu a północą;
- d) niedokładność pomiaru kompasu spowodowana zmęczeniem magnesu.

5. Które obiekty na niebie mają podstawowe znaczenie w orientacji?

- a) Wenus, Mars i Księżyc;
- b) Słońce, Księżyc i Wielki Wóz;
- c) Gwiazda Polarna, Księżyc i Słońce;
- d) Gwiazda Polarna, Krzyż Południa i Słońce.

Pytanie 33 [12 pkt.]

a) Ilu centymetrom na mapie o zadanej skali odpowiada 5 km w terenie?

1:25 000	<input type="text"/>	1:40 000	<input type="text"/>
----------	----------------------	----------	----------------------

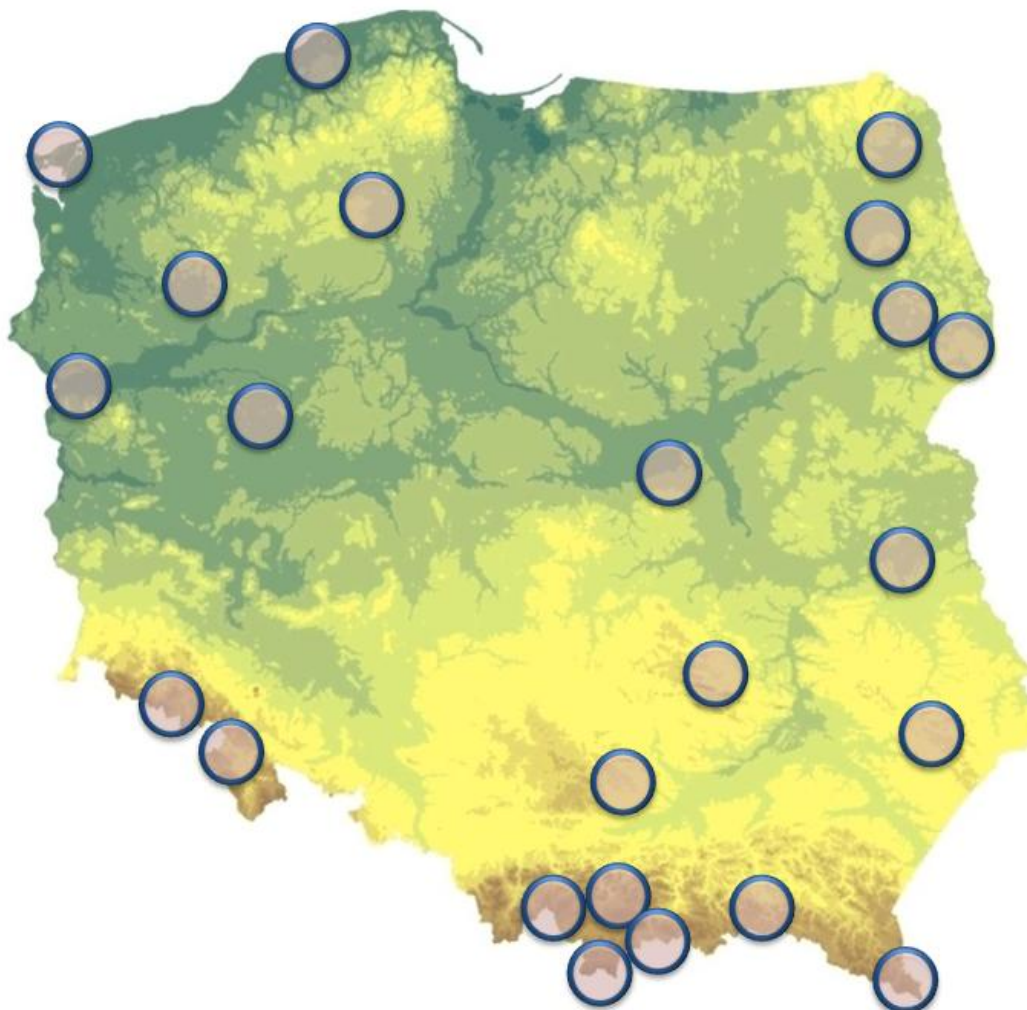
b) Ilu kilometrom w terenie odpowiada 9 cm na mapie o podanej skali?

1:50 000	<input type="text"/>	1:15 000	<input type="text"/>
----------	----------------------	----------	----------------------

Przyroda i jej ochrona

Pytanie 34 [39 pkt.]

1. Wpisz w kółeczka na mapie numer Parku Narodowego



1	Babiogórski PN	13	Ojcowski PN
2	Białowiecki PN	14	Pieniński PN
3	Biebrzański PN	15	Poleski PN
4	Bieszczadzki PN	16	Roztoczański PN
5	PN "Bory Tucholskie"	17	Słowiński PN
6	Drawieński PN	18	Świętokrzyski PN
7	Gorczański PN	19	Tatrzański PN
8	PN Gór Stołowych	20	PN "Ujście Warty"
9	Kampinoski PN	21	Wielkopolski PN
10	Karkonoski PN	22	Wigierski PN
11	Magurski PN	23	Woliński PN
12	Narwiański PN		

2. Zaznacz okręgiem i podpisz na mapie obszar 3 wybranych Rezerwatów Biosfery UNESCO (MAB).

Pytanie 35 [20 pkt.]

Scharakteryzuj wybrany polski park narodowy lub Rezerwat Biosfery UNESCO tak jakbyś chciał zachęcić uczestników organizowanego przez Ciebie wyjazdu do zwiedzenia go. Skup się na wymienieniu co jest w nim chronione, atrakcjach turystycznych, ukształtowaniu powierzchni itp. [20 pkt.]

--

Pytanie 36 [26 pkt.]

1. Uzupełnij tabelę właściwymi pojęciami związanymi z ochroną przyrody: [16 pkt.]

	Nauka badająca zależności między organizmami żywymi a otaczającym je środowiskiem.
	Strefa ochronna granicząca z formą ochrony przyrody, wyznaczona dla jej zabezpieczenia przed zagrożeniami zewnętrznymi wynikającymi z działalności człowieka.
	Obszar wyróżniający się szczególnymi wartościami przyrodniczymi, naukowymi, społecznymi, kulturowymi i edukacyjnymi, o powierzchni min. 1000 ha, gdzie chroniona jest cała przyroda i walory krajobrazowe.
	Miejsce o warunkach sprzyjających egzystencji roślin, zwierząt lub grzybów zagrożonych wyginięciem lub rzadkich gatunków.

2. Wymień piętra roślinności występujące w Bieszczadach: [10 pkt.]

--

Pytanie 37 [15 pkt.] - test jednokrotnego wyboru

- 1) Piętra roślinności powstały m.in. z powodu:
 - a) występowania różnych gatunków zwierząt na różnych wysokościach
 - b) różnego stopnia presji antropomorficznej
 - c) zmian temperatury wraz ze zmianą długości geograficznej
 - d) zmieniającej się długości okresu wegetacyjnego wraz ze wzrostem wysokości n.p.m.

- 2) Bór to:
- las iglasty
 - las w którym dominują buki
 - inaczej młodnik
 - las okresowo zalewany wodami rzecznyymi
- 3) Regiel górny charakteryzuje się:
- dominacją buka
 - występowaniem kosodrzewiny
 - występowaniem we wszystkich pasmach górskich w Polsce
 - w Polsce występuje z reguły powyżej 1000m
- 4) Gatunek roślin i zwierząt unikalny dla danego miejsca albo regionu, nigdzie indziej niewystępujący naturalnie to:
- relikt
 - endemit
 - biotop
 - pomnik przyrody
- 5) Na ekosystem składają się:
- biotop i biocenoza
 - biocenoza i ekoton
 - biosfera i populacja
 - fauna i flora

Zagadnienia prawne w turystyce

Pytanie 38 [26 pkt.] - test wielokrotnego wyboru

1. Jaki dokument uprawnia polskich obywateli do przekraczania granicy polsko-rosyjskiej? [8 pkt.]
- dowód osobisty
 - dowód osobisty z ważną wizą
 - paszport
 - paszport z ważną wizą
2. Jaki dokument uprawnia polskich obywateli do przekraczania granicy polsko-niemieckiej? [8 pkt.]
- paszport
 - dowód osobisty
 - legitymacja studencka
 - legitymacja NFI
3. Do których z poniższych państw mogą wjechać obywatele polscy na podstawie dowodu osobistego? Wpisz „TAK” lub „NIE” [10 pkt.]

UKRAINA	
CYPR	
USA	
LITWA	
SZWAJCARIA	

SŁOWACJA	
BIAŁORUŚ	
WIELKA BRYTANIA	
CHORWACJA	
CZECHY	

Pytanie 39 [38 pkt.]

Zaznacz prawidłowe odpowiedzi:

1. Które z poniższych informacji musi zawierać zgłoszenie imprezy w OM PTTK? Wpisz „TAK” lub „NIE” [20 pkt.]

1.	Preliminarz kosztów	
2.	Ulotkę informacyjną odnośnie wyjazdu	
3.	Kadrę wyjazdu	
4.	Dane (imię, nazwisko) prowadzącego imprezę	
5.	Dane (imię, nazwisko) uczestników imprezy	
6.	Miejsce imprezy	
7.	Charakter imprezy (np. piesza, kolarska, motorowa)	
8.	Datę początkową i końcową imprezy	
9.	Szacowaną liczbę osób	
10.	Koło lub klub będący organizatorem imprezy	

2. Które z poniższych informacji musi zawierać rozliczenie imprezy w OM PTTK? Wpisz „TAK” lub „NIE” [12 pkt.]

1.	Faktycznie przebytą trasę	
2.	Zdjęcia potwierdzające realizację zaplanowanej trasy	
3.	Rozliczenie finansowe lub oświadczenie organizatora informujące o tym, że uczestnicy pokryli koszty we własnym zakresie	
4.	Listę podpisów uczestników	
5.	Ceny noclegów	
6.	Zestawienie punktów GOT	

3. Które z poniższych informacji odnośnie imprezy w OM PTTK jest prawidłowe? Wpisz „TAK” lub „NIE” [6 pkt.]

1.	Impreza może być zgłoszona w postaci mailowej na adres info@om.pttk.pl	
2.	W przypadku imprezy, na której planowana liczba osobodni jest większa niż 200, impreza musi być zgłoszona na min. 14 dni przed rozpoczęciem	
3.	Lista imprez organizowanych w OM PTTK jest publikowana na stronie internetowej Oddziału	

Pytanie 40 [36 pkt.]

1. Jakie warunki musi spełnić osoba, aby być kierownikiem imprezy w OM PTTK? Wpisz „TAK” lub „NIE” [12 pkt.]

1.	kierownik musi posiadać uprawnienia Organizatora Turystyki	
2.	kierownik musi posiadać aktualnie opłaconą składkę PTTK	
3.	kierownik musi posiadać uprawnienia przewodnickie	
4.	kierownik musi posiadać uprawnienia Przewodnika Turystyki Górskiej	
5.	kierownik musi posiadać podpisaną umowę o świadczeniu usług wolontarystycznych	
6.	kierownik musi być członkiem PTTK co najmniej dwa lata	

2. Które z poniższych informacji odnośnie ubezpieczenia OC w OM PTTK jest prawidłowe? Wpisz „TAK” lub „NIE” [12 pkt.]

1.	ubezpieczenie OC obejmuje wszystkich uczestników imprezy	
2.	ubezpieczenie OC działa wyłącznie na wyjazdach zgłoszonych do PTTK	
3.	ubezpieczenie OC obejmuje wszystkich uczestników imprezy, którzy są członkami PTTK	
4.	ubezpieczenie OC obejmuje kadrę wyjazdów	
5.	ubezpieczenie OC obejmuje wyłącznie przewodników	
6.	ubezpieczenie OC obowiązuje wyłącznie na terytorium RP	

3. Które z poniższych informacji odnośnie ubezpieczenia NNW w OM PTTK jest prawidłowe? Wpisz „TAK” lub „NIE” [12 pkt.]

1.	ubezpieczenie NNW obejmuje wszystkich uczestników imprezy	
2.	ubezpieczenie NNW działa wyłącznie na wyjazdach zgłoszonych do PTTK	
3.	ubezpieczenie NNW obowiązuje na terenie całej Europy	
4.	ubezpieczenie NNW obejmuje wyłącznie uczestników imprezy, którzy są członkami PTTK	
5.	ubezpieczenie NNW obejmuje kadrę wyjazdów	
6.	ubezpieczenie NNW obejmuje wyłącznie wolontariuszy OM	